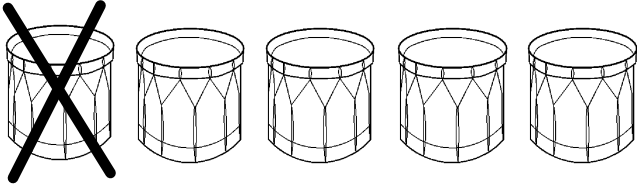


## Ejercicios de Resta

Tacha los objetos de abajo para ayudarle a encontrar la diferencia. Escriba las respuestas en cada línea.

a.




$$5 - 1 = \underline{\quad}$$

b.



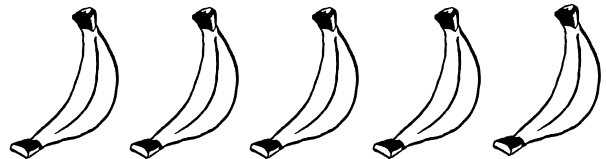
$$5 - 2 = \underline{\quad}$$

c.



$$5 - 3 = \underline{\quad}$$

d.



$$5 - 4 = \underline{\quad}$$