


## Ejercicios de Resta


Tacha los objetos de abajo para ayudarle a encontrar la diferencia. Escriba las respuestas en cada línea.

a.




$$6 - 3 = \underline{\quad}$$

b.




$$7 - 2 = \underline{\quad}$$

c.



$$9 - 4 = \underline{\quad}$$

d.



$$10 - 5 = \underline{\quad}$$